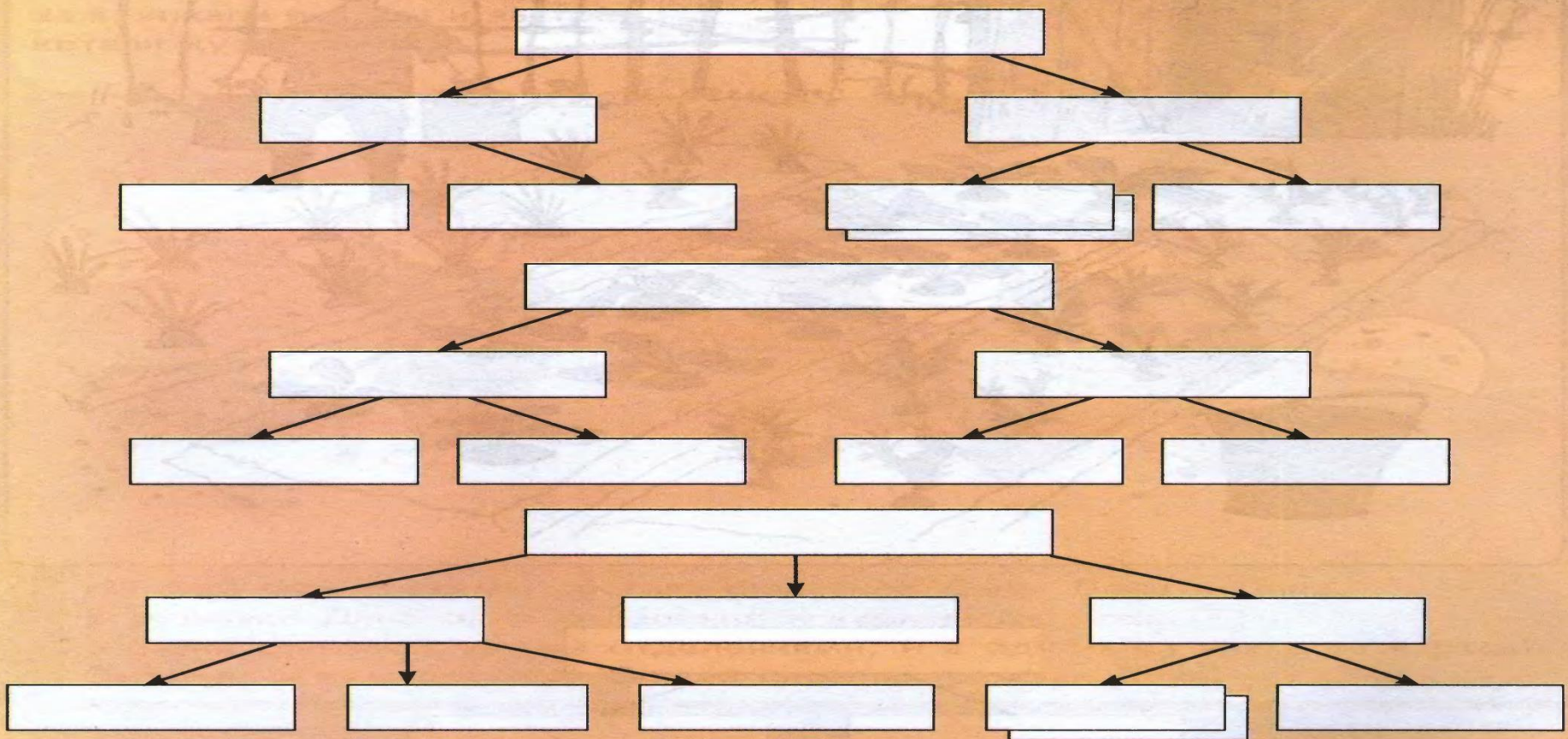


***ПОВТОРЕНИЕ***



Дин живёт в двухэтажном доме. На первом этаже у него гостиная и кухня, а на втором – две спальни и ванная комната.  
 К двухэтажному дому Дона пристроен гараж. На первом этаже у него гостиная, кухня и гимнастический зал, а на втором – три спальни и ванная.  
 У Дана такой же дом, как у Дина, но в нём только одна спальня.  
 Найди и заполни схему состава каждого дома. Запиши адреса.

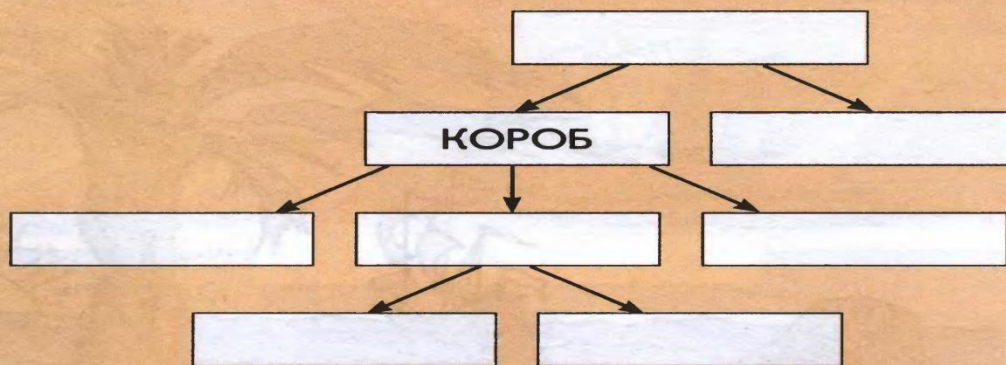

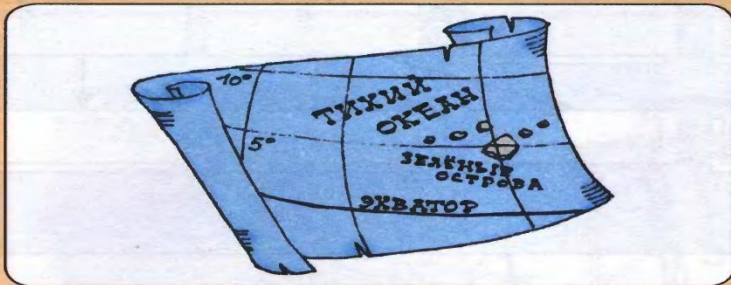
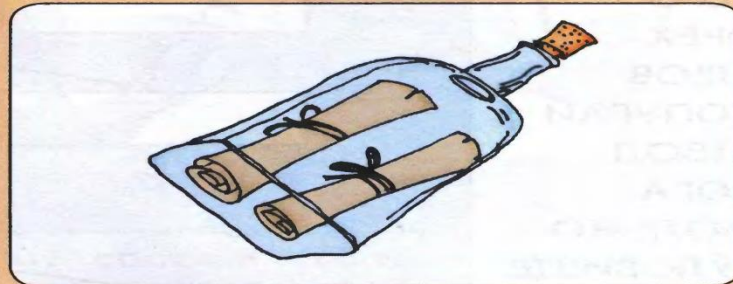



Адрес холодильника Дина: \_\_\_\_\_.

Адрес велотренажёра Дона: \_\_\_\_\_.

Адрес зубной щётки Дана: \_\_\_\_\_.

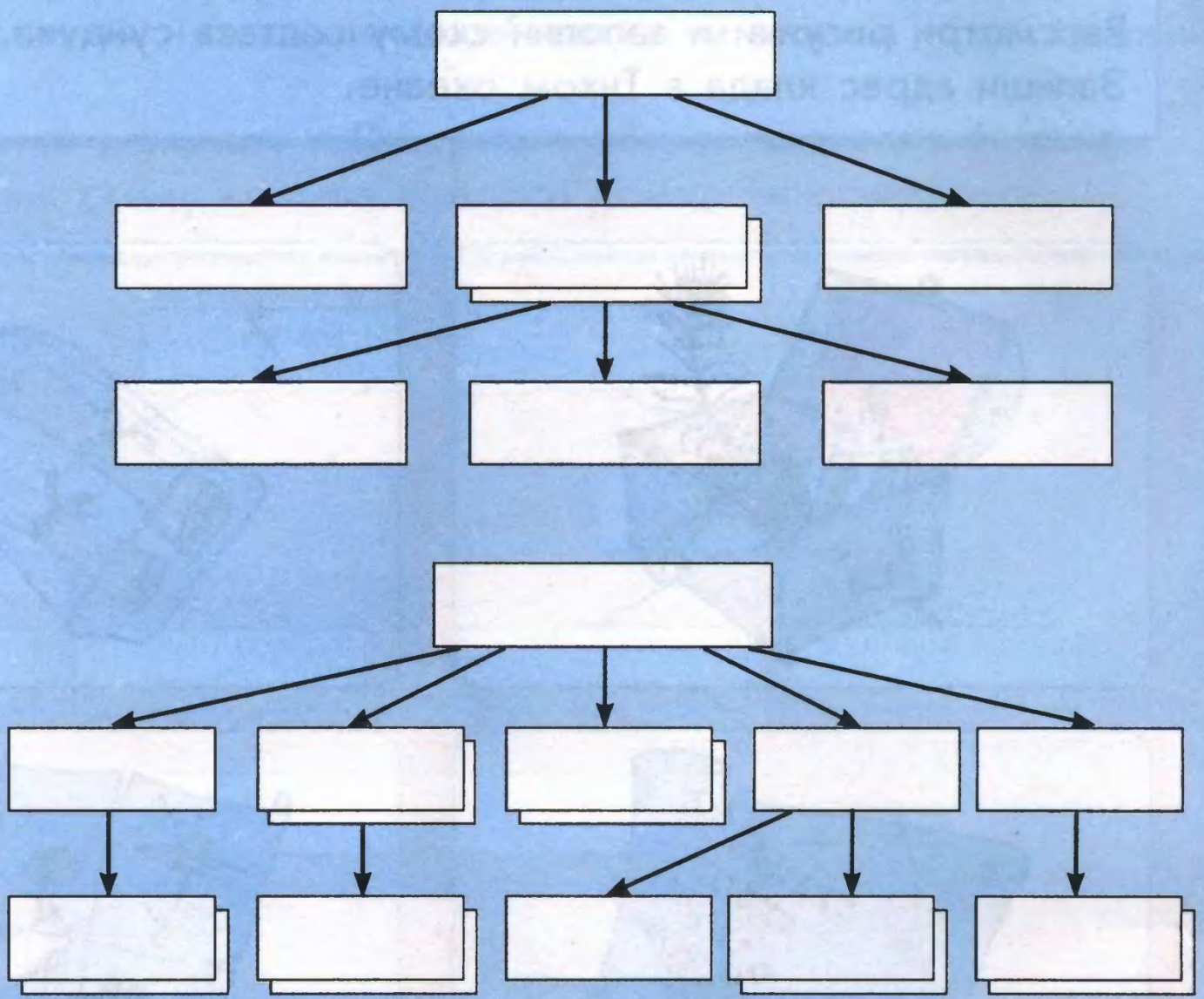
На дне Тихого океана лежит сундук, хранящий тайну древнего клад. В бутылке – обрывок карты Зелёных островов и записка с планом острова Четырёх Пальм. Крестиком отмечено место, где зарыт клад. Рассмотрите рисунки и заполните схему состава сундука. Запиши адрес клада в Тихом океане.





Адрес клада: \_\_\_\_\_

\_\_\_\_\_


- МЯКОТЬ
- ГОЛОВА
- ПАЛЬМА
- ПЕРО
- ОРЕХ
- КЛЮВ
- ПОПУГАЙ
- СТВОЛ
- НОГА
- МОЛОКО
- ТУЛОВИЩЕ
- ЛИСТЬЯ
- ХВОСТ
- СКОРЛУПА
- КРЫЛО



Раскрась предмет, который можно отнести к парусным кораблям.



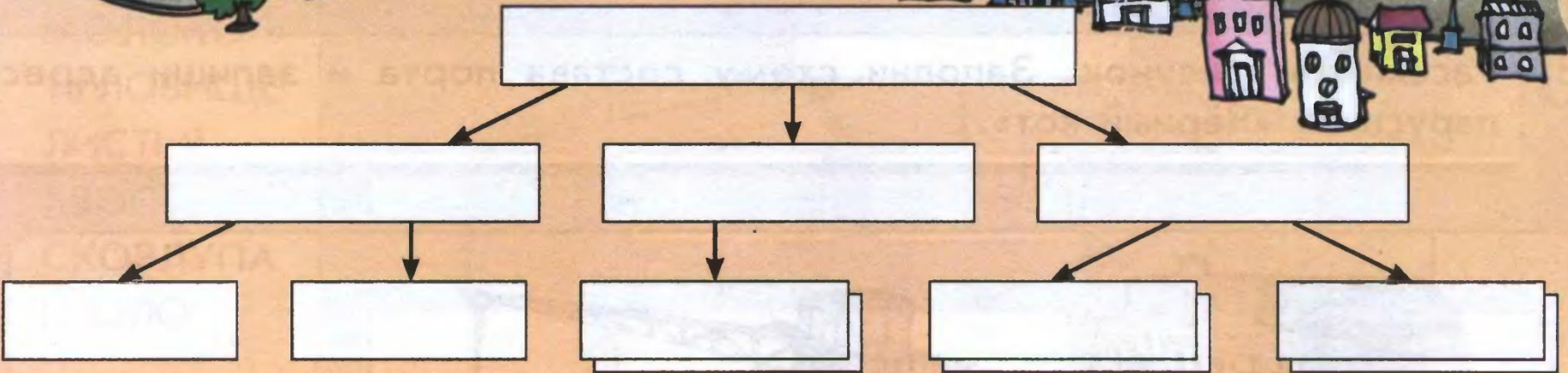

Рассмотри рисунок. Заполни схему состава порта и запиши адрес парусника «Чёрный кот».



Адрес «Чёрного кота»: \_\_\_\_\_.

В Лесном городе две улицы и площадь. На площади расположены почта и банк. На Солнечной улице 12 домов и нет ни одного фонаря. На Тенистой улице 10 домов и 8 фонарей. Второй, седьмой и восьмой фонари не горят.

Заполни схему Лесного города и запиши адрес Ужастика, который поселился в третьем погасшем фонаре.



Адрес Ужастика: \_\_\_\_\_.

# ДОМАШНЕЕ ЗАДАНИЕ

35

Выбери слова из списка и заполни таблицу.

На чём рисовать?	Чем рисовать?

ИГОЛКА С НИТКОЙ  
БУМАГА  
МЕЛ  
КАРАНДАШ  
СНЕГ  
ДОСКА  
УГОЛЬ  
КРАСКА  
АСФАЛЬТ  
ИГОЛКА  
ТКАНЬ  
ПАЛЕЦ