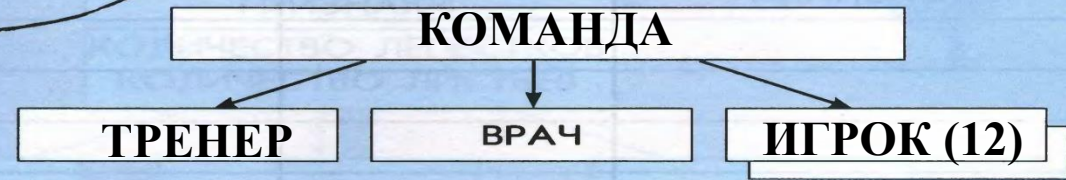



ПОДГОТОВКА К  
КОНТРОЛЬНОЙ  
РАБОТЕ





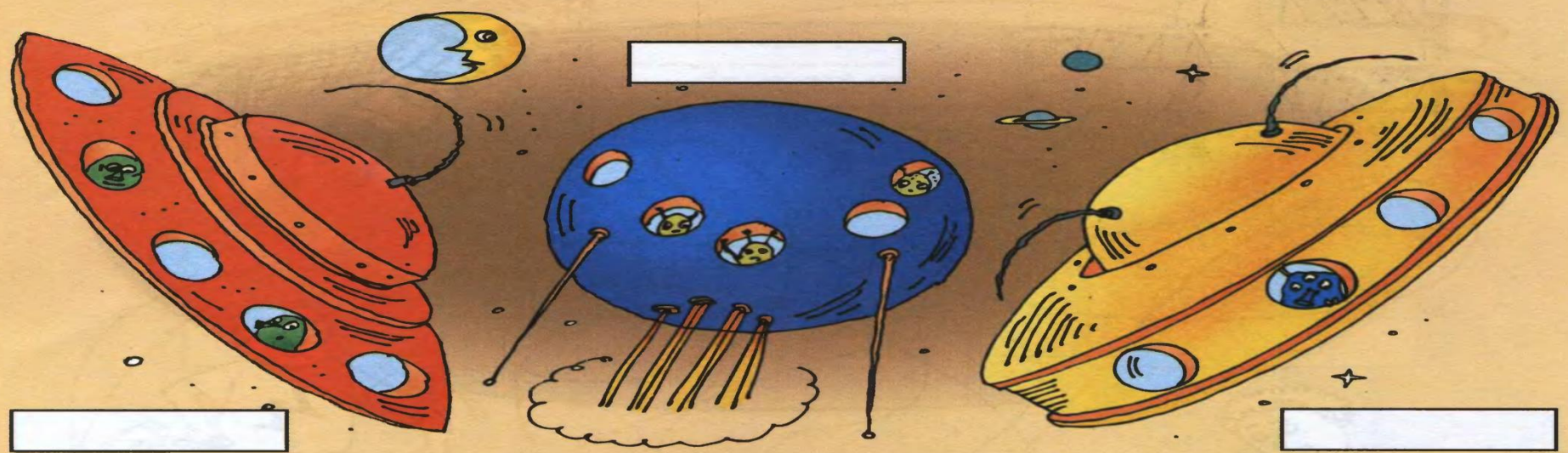
Заполни схему состава футбольной команды. Запиши адрес игрока, забившего гол.



Адрес игрока: **КОМАНДА, ИГРОК (3)** \_\_\_\_\_.



Дай единичные имена космическим кораблям и запиши их под рисунками. Опиши в таблицах общие свойства и отличительные признаки кораблей.



СОСТАВ	ДЕЙСТВИЯ

ПРИЗНАКИ			



Проставь номера на рисунке и заполни схему состава шкафа. Запиши адреса зелёной папки и круглой коробки.

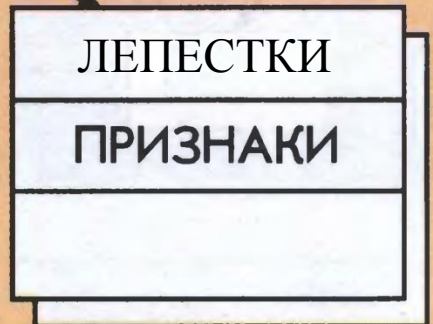
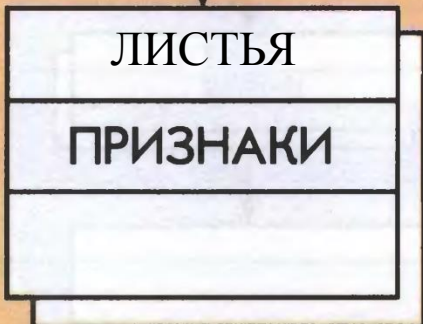
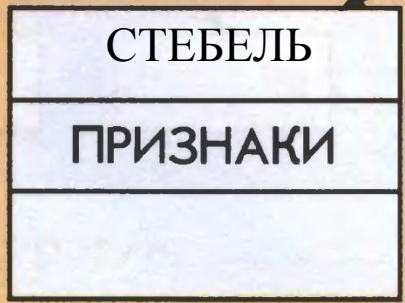
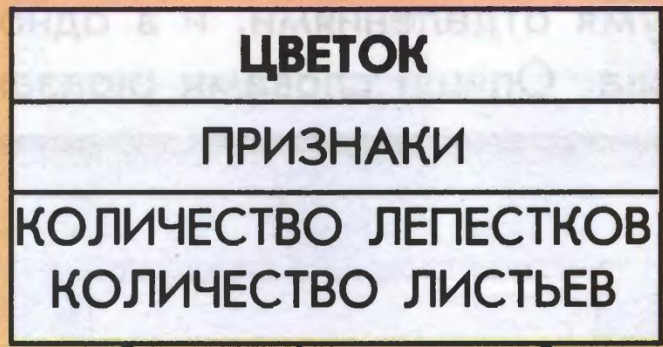


Адрес папки: \_\_\_\_\_.

Адрес коробки: \_\_\_\_\_.



Дополни схему названиями составных частей и их признаками.



Вставь в отрывке пропущенные буквы и запиши их адреса.

«Минут через пять наступил  
рассвет. На этот раз сразу  
три солнца с трёх сторон  
выкатились на небо. Вокруг  
зажужжали пчёлы и застре-  
котали кузнечики».

Адрес буквы **л** : предложение (**2**),  
слово (**6**),  
буква (3)

Адрес буквы **ё** : \_\_\_\_\_,  
\_\_\_\_\_  
\_\_\_\_\_

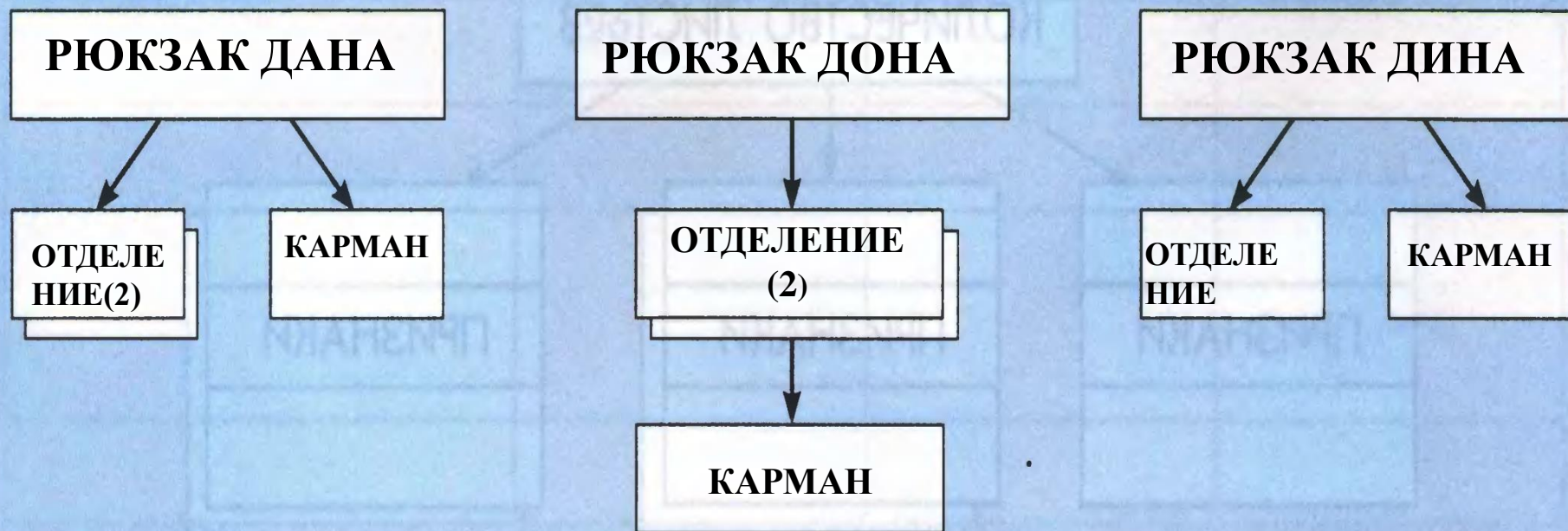


На рисунках – схемы состава рюкзаков Дина, Дона и Дана.

В рюкзаке Дина одно отделение и карман снаружи.

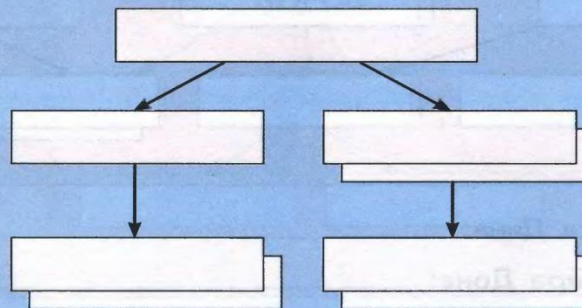
У Дона рюкзак с двумя отделениями, и в одном из них есть карман.

Заполни схемы состава. Опиши словами рюкзак Дана.





Проставь на рисунке все необходимые номера и запиши с их помощью адрес самой большой репки. Заполни схему состава огорода.



Адрес репки: \_\_\_\_\_



# Домашнее задание



✂ Составить схему состава шкафа, книжной полки, письменного стола (на выбор).